

وزارة التربية  
إدارة الشؤون التعليمية

مراقبة الامتحانات وشؤون الطلبة

نموذج الإجابة

المرحلة الثانوية

الفترة الدراسية الثالثة

المادة : الإجتماعيات

الصف : العاشر

العام الدراسي

2016 / 2015



وزارة التربية

الإدارة العامة لمنطقة مبارك الكبير التعليمية

التوجيه الفني للاجتماعيات

الزمن : ساعة دراسية

عدد الأوراق : ( ٤ )

نموذج إجابة

امتحان الفترة الثالثة لمقرر الوطن العربي الصف ( العاشر )

( ٢٠١٥ - ٢٠١٦ )



منطقة مبارك الكبير التعليمية  
التوجيه الفني للاجتماعيات

السؤال الأول : ويتكون من ( أ ، ب ، ج ، د )

أ ) اختر الإجابة الصحيحة من بين البدائل التي تلي كل عبارة وضع خط تحتها :- ثلاث درجات  
درجة لكل نقطة

١ - تقدر مساحة الصحاري الحارة في الوطن العربي بحوالي : ص ١٢٧

( ٥٠ % - ٦٠ % - ٧٠ % - ٨٠ % )

٢ - تم التوقيع على الاتفاقية العثمانية الانجليزية حول منطقة الخليج العربي عام : ص ١٤٧

( ١٩١١ م - ١٩١٣ م - ١٩١٥ م - ١٩١٧ م )

٣ - القيمة التي تعني المساواة بين الناس في الحقوق و الواجبات و إنكار استغلال الإنسان لأخيه الإنسان هي :

( تكريم الإنسان - الحرية - العدالة الاجتماعية - المسؤولية الاجتماعية ) ص ١٦١

ب ) أكمل العبارات التالية بما يناسبها مما يلي :- ثلاث درجات لكل نقطة

١ - الدولة العربية التي تعتبر الرائدة في مجال تحلية مياه البحر المالحة تعرف باسم الكويت . ص ١٣٤

٢ - عالم الاجتماع العربي الذي قام بتحديد مفهوم الثقافة يعرف باسم ابن خلدون . ص ١٥٨

٣ - يطلق على عملية الاعتداء الحدودية التي نفذتها السلطات العراقية على دولة الكويت عام ١٩٧٣ م اسم الصامته . ص ١٥٠

ج ) اكتب المفهوم أو المصطلح المناسب لكل عبارة مما يلي :- ثلاث درجات لكل نقطة

١ - ( المياه الجوفية ) مياه تجمعت في الطبقات السفلية من سطح الأرض نتيجة مسامية الطبقة الحاوية للمياه . ص ١٣٢

٢ - ( التخوم ) إقليم أو منطقة على الحدود تشكل نطاق فصل أو انتقال بين وحدتين سياسيتين أو أكثر . ص ١٤٥

٣ - ( التنمية ) توظيف كافة موارد الدولة و إمكاناتها المادية و البشرية من أجل تحقيق التقدم في كافة مجالات الحياة وفق خطة علمية شاملة . ص ١٥٦

د ) صنف مشاريع الري التالية حسب المطلوب في الجدول :- درجتان نصف لكل نقطة

( سد العشارنة - السد العالي - سد الحبانية - سد وادي غريب - سد مجردة ) ص ١٤١ - ١٤٣



مصر	تونس	المغرب	سوريا
- السد العالي	- سد مجردة	- سد وادي غريب	- سد العشارنة

السؤال الثاني :- و يتكون من ( أ - ب - ج ) :-

أ - اجب عن ما يلي :- ( درجتان )

١ - عدد أهم مصادر المياه الطبيعية في الوطن العربي . ص ١٢٦ ( درجة واحدة يكتفى بنقطتين )  
- الأمطار .

- المياه الجارية . - المياه الجوفية

٢ - اذكر أهم المشكلات التي يواجهها العرب بالنسبة للثقافة العربية . ( درجة واحدة يكتفى بنقطتين )

- القصور التقني . - التبعية . - الاعلام . - الامية و الجهل . - النكوص الى الماضي .

- انقسام العرب . ص ١٦٥ - ١٦٦

ب - فرق بين كل من حيث التعريف : درجتان لكل نقطة نصف درجة

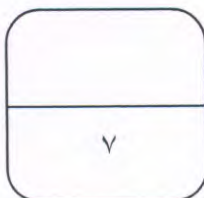
الحدث	التقليد ص ١٦٣
الارتباط بتطورات اليوم و الغد و استيعاب تيارات العصر و مواكبة تحولاته مع الحفاظ على الهوية الحضارية و القيم الروحية للمجتمع .	التراث الموروث عن الآباء و الأجداد و الذي يعكس تاريخنا الحضاري .
الخطوط الهندسية ص ١٤٥	الخطوط الفلكية
اي خطوط مستقيمة او خطوط ممتدة من نقطة معينة .	اي خطوط الطول او دوائر العرض

ج - ما مقترحاتك لمعالجة المشكلات الناجمة عن الحدود بين الوطن العربي ؟ ص ١٥٥ ثلاث درجات

- استبعاد استخدام القوة بأي حال من الأحوال مهما طال أمد المفاوضات .

- الاستعانة بالمنظمات و الهيئات العربية و الدولية التي تختص بمثل هذه المنازعات .

- مراعاة مصالح السكان في المناطق المتنازع عليها .



السؤال الثالث :- و يتكون من ( أ - ب - ج ) :-


أ - قارن بين كل من حسب المعطيات في الجدول :- درجتان

المعطيات	الأنهار الدولية	الأنهار المحلية ص ١٢٧
أوجه الاختلاف	انهار كبيرة تجري بين اكثر من دولة	انهار صغيرة تجري داخل الدولة فقط
المعطيات	الأصالة ص ١٥٨	التغريب ص ١٥٩
أوجه الاختلاف	الهوية و الذاتية الثقافية التي تميز المجتمع عن المجتمعات الأخرى .	التراث الغربي الدخيل على المجتمعات و قد يحول الهوية الأساسية للمجتمعات .

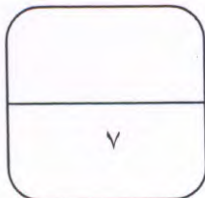
ب - عرف ما يلي : ثلاث درجات

- ١ - النبع : تدفق المياه الباطنية إلى سطح الأرض بصورة طبيعية . ص ١٣٠
- ٢ - الحدود الطبيعية : تتفق و الحواجز الطبيعية ( البحر - النهر - الصحراء - الاودية - الجبال - الغابات . ص ١٤٥
- ٣ - المعاصرة : العصر الحالي الذي نعيشه الذي يحمل سمات المستقبل . ص ١٦٤ .

ج - علل ما يلي : درجتان لكل نقطة نصف درجة



- ١- الاحتلال الإيراني للجزر الإماراتية الثلاث . ص ١٥٢  
- الناحية الإستراتيجية لأنها ذات موقع هام على مدخل الخليج العربي .  
- الناحية الاقتصادية وجود النفط و أكسيد الحديد فيها .
- ٢ - لجوء الدول لمعالجة مياه الصرف الصحي أو الصناعي أو الزراعي . ص ١٣٦  
- يجنب البيئة الطبيعية و خاصة البحرية من التلوث .  
- يوفر مصدرا آخر للمياه العذبة التي يمكن الاستفادة منها .



السؤال الرابع :- و يتكون من ( أ - ب - ج ) :-

أ - اكتب عن أهمية اللغة العربية . ص ١٦٧ درجتان لكل نقطة درجة

- اللغة هي أداة التفكير و تلقي المعرفة .

- اللغة هي أداة التواصل بين الماضي و الحاضر .

ب - اقرأ الفقرة التالية ثم اجب عن ما يليها : ثلاث درجات لكل نقطة درجة

( يواجه الوطن العربي العديد من المشكلات التي من أهمها المشكلات المتعلقة بالمياه و لقد تزايدت حدة مشكلة المياه في السنوات الأخيرة ) . ص ١٢٥

١ - ما المقصود بمشكلة المياه ؟

- تتمثل في ضعف قدرة موارد المياه سواء كانت طبيعية ام بشرية عن سد حاجة السكان . ص ١٢٥

٢ - ما أهم المشكلات التي تواجه موارد المياه في الوطن العربي ؟

- تزايد الطلب على المياه العذبة بصورة مطردة نتيجة لزيادة عدد السكان السريع .

- الرخاء الاقتصادي في بعض الدول العربية مما ترتب عليه ارتفاع معدل استهلاك المياه .

ج - علل لما يلي :- درجتان لكل نقطة نصف درجة

١- حرص الاستعمار على تجزئة الوطن العربي .

- لكي يسهل السيطرة عليه .

- ليفرق بين أبناء الوطن العربي و لا تقوم للدول العربية قائمة . ص ١٤٦

٢ - تمسك اسبانيا باحتلال مدينتي سبتة و مليلة المغربية .

- لأنها بذلك تسيطر على جميع الجزر التي تقع بينها مما أدى إلى تضيق الساحل الشمالي للمغرب .

- سيطرت على أهم الموانئ المطلة على البحر المتوسط لتتحكم في مضيق جبل طارق . ص ١٥٣

